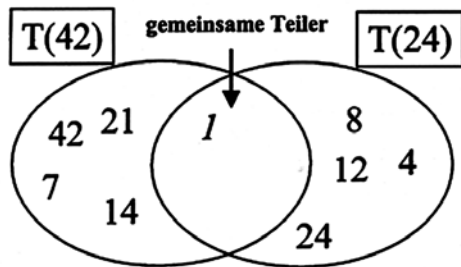
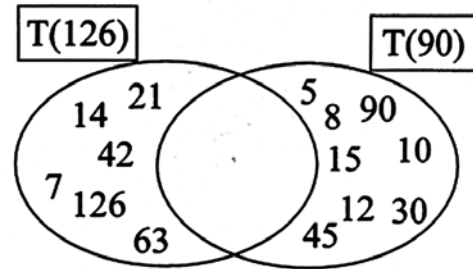


- ① Ergänze die gemeinsamen Teiler und bestimme den größten gemeinsamen Teiler.



Gemeinsame Teiler: _____

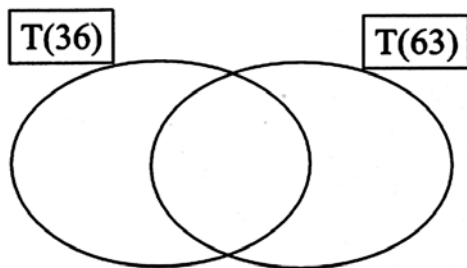
Größter gemeinsamer Teiler: _____



Gemeinsame Teiler: _____

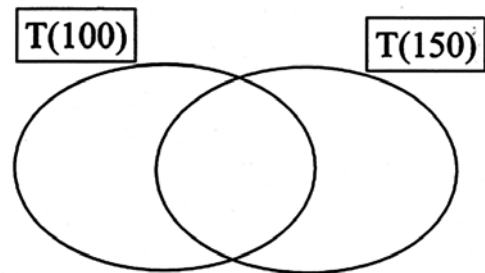
Größter gemeinsamer Teiler: _____

- ② Trage die Teiler ein. Schreibe gemeinsame Teiler und den größten gemeinsamen Teiler auf.



Gemeinsame Teiler: _____

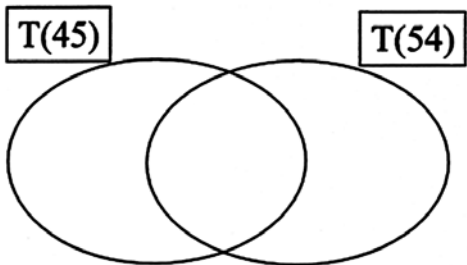
Größter gemeinsamer Teiler: _____



Gemeinsame Teiler: _____

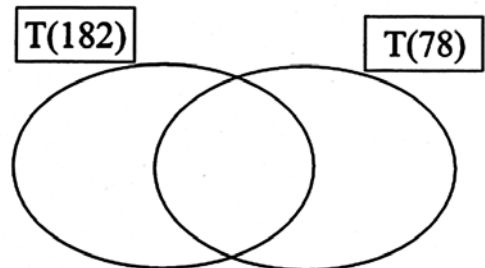
Größter gemeinsamer Teiler: _____

- ③ Trage die Teiler ein. Schreibe gemeinsame Teiler und den größten gemeinsamen Teiler auf.



Gemeinsame Teiler: _____

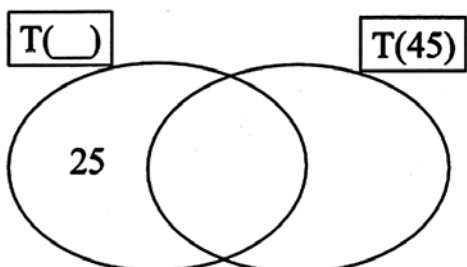
Größter gemeinsamer Teiler: _____



Gemeinsame Teiler: _____

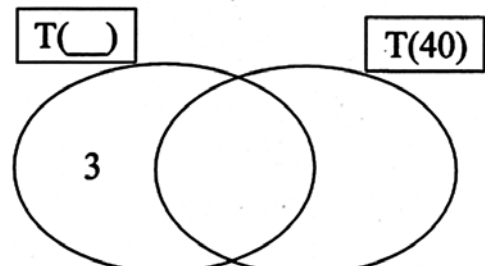
Größter gemeinsamer Teiler: _____

- ④ Ergänze die fehlenden Teiler und Teilmengen. Kein Feld darf leer bleiben.



Gemeinsame Teiler: 1, 3, 5, 15

Größter gemeinsamer Teiler: 15



Gemeinsame Teiler: 1, 2, 4, 5, 10, 20

Größter gemeinsamer Teiler: 20